



Name: _____


Datum: _____


Die Zahlen bis 1000 - Zählen, Bündeln, Schätzen (2)

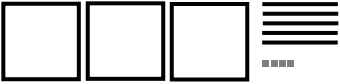
1. Wie heißen die Zahlen? Schreibe als Aufgabe und als Zahl.


a) 
 $300 + 40 + 5 =$ _____


b) 

c) 


d) 


e) 

f) 

g) 

h) 

i) 

k) 

l) 